

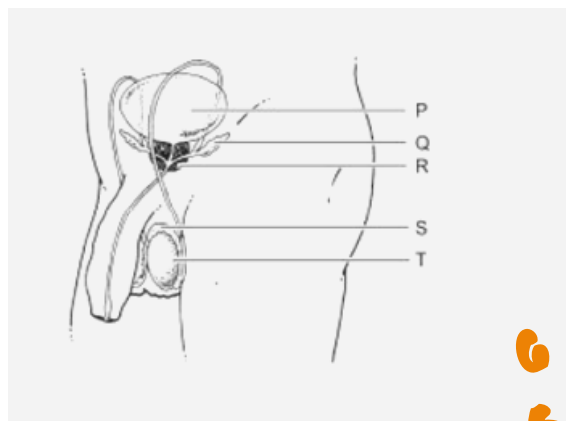
# Huiswerkopdracht

GASTLES "PUBERTEIT & PERSOONLIJKE HYGIËNE"


## OPDRACHT 1

Mannelijk voorplantingsstelsel

In de afbeelding hiernaast worden onder andere enkele delen van het voorplantingsstelsel van de man weergegeven. Enkele organen zijn in de afbeelding aangegeven met letters. Noem de verschillende onderdelen:



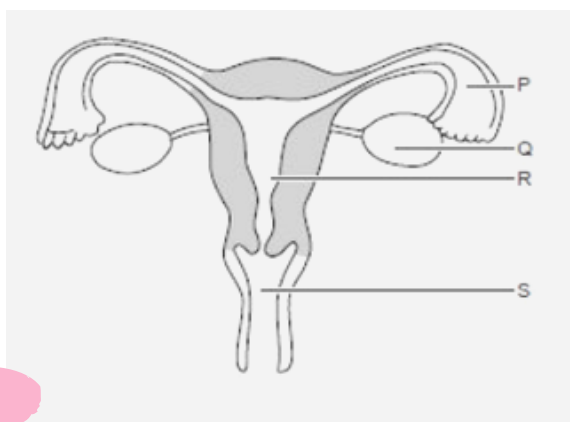
P = \_\_\_\_\_  
Q = \_\_\_\_\_  
R = \_\_\_\_\_  
S = \_\_\_\_\_  
T = \_\_\_\_\_



## OPDRACHT 2

Vrouwelijk voorplantingsstelsel

In de afbeelding links zijn de voortplantingsorganen van een vrouw schematisch weergegeven. Noem de verschillende onderdelen:



P = \_\_\_\_\_  
Q = \_\_\_\_\_  
R = \_\_\_\_\_  
S = \_\_\_\_\_

## OPDRACHT 3

Vul in

Deze functies van de \_\_\_\_\_ is het produceren van zaadcellen

Zaadcellen worden opgeslagen in de \_\_\_\_\_

Het vocht uit de zaadblaasjes en de prostaat met de zaadcellen noemen we \_\_\_\_\_

In de \_\_\_\_\_ vindt de ontwikkeling van eicellen plaats

Een ander woord voor de eisprong is de \_\_\_\_\_

De bevruchting vindt plaats in de \_\_\_\_\_

De bevruchte eicel kan zich innestelen in de \_\_\_\_\_

Door prikkeling van de \_\_\_\_\_ kan een vrouw een orgasme krijgen

Het afstoten van een deel van het baarmoederslijmvlies heet \_\_\_\_\_

## OPDRACHT 4

Beantwoord de vraag

Wanneer is een meisje voor het eerst in haar leven vruchtbaar? Voor of na haar eerste menstruatie? Beargumenteer je antwoord.

\_\_\_\_\_

\_\_\_\_\_

## OPDRACHT 5

Beantwoord de vraag

Hoe kun je een klasgenootje dat ongesteld is helpen als ze doorgelekt is? Noem 3 dingen.

1. \_\_\_\_\_

2. \_\_\_\_\_

3. \_\_\_\_\_

## OPDRACHT 6

Beantwoord de vraag

Waarom is het belangrijk dat een jongen evenveel over menstruatie weet als een meisje?

\_\_\_\_\_

\_\_\_\_\_